



**SOAL SELEKSI  
OLIMPIADE SAINS TINGKAT KABUPATEN/KOTA 2014  
CALON TIM OLIMPIADE GEOGRAFI INDONESIA 2015**



**Bidang Geografi**

Waktu : 180 menit

**KEMENTERIAN PENDIDIKAN DAN KEBUDAYAAN  
DIREKTORAT JENDERAL PENDIDIKAN MENENGAH  
DIREKTORAT PEMBINAAN SEKOLAH MENENGAH ATAS  
TAHUN 2014**

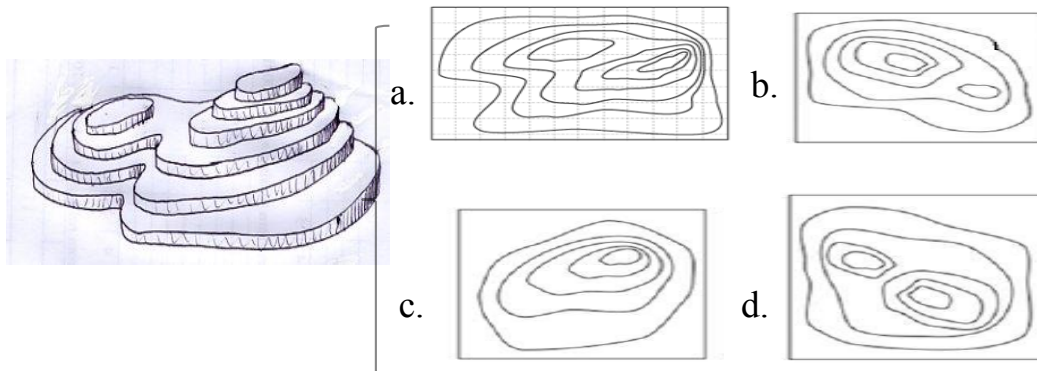
**Petunjuk mengerjakan soal:**

- a. Jumlah soal yang diberikan sebanyak 100 soal pilihan ganda
  - b. Waktu pengerjaan adalah selama 180 menit
  - c. Penilaian bagi siswa yang menjawab Benar = +3, Tidak Diisi = 0, dan Salah = -1
  - d. Jawaban soal dikerjakan pada lembar jawaban yang disediakan
- =====

1. Jika kita bandingkan antara jumlah unsur cuaca (UC) dan unsur iklim (UI), manakah pernyataan berikut yang benar:
  - a.  $UC < UI$
  - b.  $UC = UI$
  - c.  $UC > UI$
  - d.  $UC \geq UI$
  - e.  $UC \leq UI$
  
2. Hutan hujan tropis dapat dijumpai di wilayah:
  - a. Kutub
  - b. Philippina
  - c. Singapura
  - d. Indonesia
  - e. Australia
  
3. Topan Haiyan yang melanda Philippina beberapa waktu yang lalu telah mengundang perhatian dunia karena kedahsyatannya. Untuk menyatakan tingkat kekuatan topan dikenal skala yang disebut sebagai:
  - a. Skala Beaufort
  - b. Skala Unagi
  - c. Skala Saffir-Simpson
  - d. Skala Fujita
  - e. Skala Hadley
  
4. Anomali memanasnya suhu permukaan laut di lautan Pasifik ekuator bagian tengah dan timur yang berdampak pada cuaca dan iklim dunia disebut:
  - a. La Nina
  - b. El Nino
  - c. Dipole Mode
  - d. Monsoon
  - e. Sirkulasi Walker
  
5. Pola curah hujan yang umumnya terjadi di wilayah Indonesia di sebelah selatan ekuator lebih banyak dipengaruhi oleh:
  - a. Monsoon
  - b. Dipole mode
  - c. ENSO
  - d. Sirkulasi Walker
  - e. Sirkulasi Lokal

6. Pada bulan Januari 2014, beberapa wilayah baik di Eropa maupun Amerika dilanda oleh peristiwa cuaca yang sangat jelek seperti cuaca yang sangat dingin sehingga air terjun Niagara di AS pun sampai membeku. Hal di bawah ini yang paling rasional untuk menjelaskan kejadian di atas adalah:
  - a. Melemahnya sirkulasi Walker
  - b. Mendinginnya lautan Atlantik
  - c. Pergerakan semu matahari yang saat itu di belahan bumi selatan
  - d. Letak matahari yang ada di utara katulistiwa
  - e. Kutub utara meluas areanya karena temperaturnya sangat rendah
  
7. Konferensi Tingkat Tinggi (KTT) bumi di Rio de Janeiro Brazil tahun 1992 sebenarnya merupakan upaya untuk membuat komitmen baru menyelamatkan lingkungan. KTT tersebut menghasilkan hal-hal di bawah ini, kecuali:
  - a. Konvensi perubahan iklim
  - b. Konvensi keanekaragaman hayati
  - c. Prinsip-prinsip tentang hutan
  - d. Konvensi perdagangan karbon
  - e. Agenda 21
  
8. Oseanografi menurut definisi adalah
  - a. Ilmu yang mempelajari lautan, terutama yang terkait dengan karakteristiknya
  - b. Ilmu yang mempelajari karakteristik dari batuan
  - c. Ilmu yang mempelajari bumi beserta atmosfer di atasnya
  - d. Ilmu yang mempelajari benda-benda angkasa
  - e. Ilmu yang mempelajari cuaca dan iklim
  
9. Salah satu sifat fisik air laut adalah salinitas. Apakah yang dimaksud dengan salinitas air laut 35 ppt (*part per thousand*)?
  - a. Di dalam 1 kg air laut terdapat 35 gram mineral garam
  - b. Di dalam 1 liter air laut terdapat 35 gram mineral garam
  - c. Di dalam 1 kg air laut terdapat 35 cc mineral garam
  - d. Di dalam 1 liter air laut terdapat 35 cc mineral garam
  - e. Di dalam 1 kg air laut terdapat 350 gram mineral garam
  
10. Indonesia diapit oleh dua samudera dan dua benua, samudera apakah yang mengapit wilayah Indonesia tersebut?
  - a. Samudera Atlantik dan Samudera Hindia
  - b. Samudera Pasifik dan Samudera Atlantik
  - c. Samudera Arktik dan Samudera Hindia
  - d. Samudera Pasifik dan Samudera Hindia
  - e. Samudera Arktik dan Samudera Pasifik

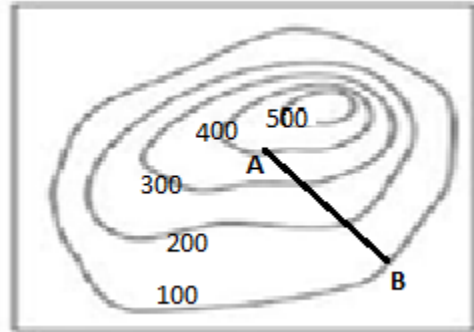
11. Daerah di pantai yang tidak boleh dipakai sebagai tempat berenang pada umumnya akibat adanya fenomena *rip current* di daerah tersebut. Apa yang dimaksud dengan *rip current*?
  - a. Gelombang laut yang terpantulkan kembali ke arah laut
  - b. Arus balik ke arah laut yang terjadi akibat bertemunya dua arus sejajar pantai
  - c. Arus permukaan laut yang ditimbulkan oleh angin yang bertiup di atasnya
  - d. Arus yang timbul akibat kemiringan topografi pantai
  - e. Arus yang timbul akibat adanya air sungai yang masuk ke arah laut
  
12. Posisi Singapura terletak pada Lintang =  $1^{\circ}17'$  Utara; Bujur =  $103^{\circ}51'$  Timur. Waktu lokal Singapura adalah pada tanggal 2 April 2014 pukul 23:03. London terletak pada posisi Lintang =  $42^{\circ}51'$  Utara ; Bujur =  $0^{\circ}03'$  Barat. Berdasarkan informasi tersebut, jam berapakah waktu di London saat itu?
  - a. 05.52 pagi pada tanggal 3 April 2014
  - b. 05.52 pagi pada tanggal 1 April 2014
  - c. 16.08 sore pada tanggal 2 April 2014
  - d. 16.08 sore pada tanggal 1 April 2014
  - e. Semua jawaban diatas salah
  
13. Manakah yang benar di antara peta kontur di bawah ini yang sesuai dengan model 3 dimensi (3D) sebelah kiri



e. Semua jawaban salah

14. Pernyataan yang terbaik manakah di bawah ini menyatakan perbedaan antara PETA dengan ATLAS:
  - a. PETA memperlihatkan daratan, lautan dan benua, sedangkan ATLAS memperlihatkan kota.
  - b. PETA menggambarkan skala kecil, sedangkan ATLAS menggambarkan skala besar
  - c. PETA merepresentasikan grafik dari tempat di dunia pada bidang datar, sedangkan ATLAS adalah koleksi peta yang berbeda-beda dan disatukan dalam bentuk buku
  - d. PETA memberikan informasi tentang gambaran fisik bumi, sedangkan ATLAS memberikan informasi tentang fitur buatan manusia
  - e. PETA memberikan informasi tentang fitur buatan manusia sedangkan ATLAS memberikan informasi tentang gambaran fisik bumi

15. Gambar di bawah ini adalah peta skala 1:10.000, jika jarak datar A dan B adalah 12 cm dipeta, maka kemiringan jalan ini:
- 1/12 %
  - 8.3 %
  - 3 %
  - 2.5 %
  - 25 %



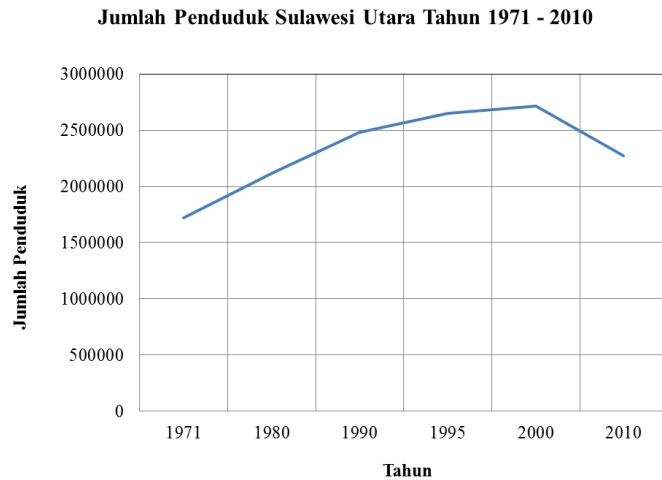
16. Dari suatu titik A dengan posisi (10.000m ; 10.000m), anda akan pergi ke Titik B menggunakan kompas dengan arah  $270^\circ$  terhadap Utara. Jika perjalanan yang anda tempuh sejauh 1,6 km, maka anda akan tiba di titik B dengan Posisi :
- (10.000 m ; 840 m)
  - (11.600 m; 10.000 m)
  - (840 m ; 10.000 m)
  - (10.000 m ; 11.600 m)
  - (840 m ; 11.600 m)
17. Pemahaman tentang lapisan-lapisan interior Bumi didapatkan dengan cara:
- Pengeboran sangat dalam
  - Pendugaan dengan mempelajari sifat-sifat transmisi gelombang gempa P dan S
  - Pendugaan dengan metode geofisika gaya berat
  - Mengirim wahana ke bawah permukaan Bumi
  - Dipelajari melalui batuan-batuan yang tersingkap di permukaan Bumi
18. Lempeng Bumi merupakan:
- Lapisan bagian atas dari Mantel Bumi
  - Lapisan astenosfer
  - Lapisan di antara astenosfer dan litosfer
  - Lapisan litosfer
  - Lapisan di bawah litosfer

19. Teori Pengapungan Benua yang dicetuskan oleh Alfred Wegener, 1912, diilhami salah satunya oleh:
  - a. Adanya lapisan astenosfer di bawah litosfer
  - b. Adanya konsep tektonik lempeng
  - c. Kemiripan bentuk garis pantai antara pantai barat Afrika dan pantai timur Amerika
  - d. Diketuainya dari teori arus konveksi di dalam Mantel Bumi
  - e. Karena adanya punggung tengah samudera (*mid-oceanic ridge*)
  
20. Tiga buah lempeng tektonik besar yang mempengaruhi Indonesia, adalah
  - a. Pasifik, Eurasia, dan Amerika
  - b. Pasifik, Eurasia, dan India-Australia
  - c. Pasifik, Eurasia, dan Antartika
  - d. Pasifik, India-Australia, dan Amerika
  - e. Pasifik, India, dan Australia
  
21. Proses yang melarutkan batuan membentuk bentang alam karst biasa terjadi pada:
  - a. Basalt
  - b. Batupasir
  - c. Batugamping
  - d. Tuf
  - e. Sabak
  
22. Suatu daerah relatif datar dengan jenis batuan sejenis, umumnya akan membentuk pola aliran sungai:
  - a. Sejajar (paralel)
  - b. trellis
  - c. radial
  - d. dendritik
  - e. rektangular
  
23. Pola aliran sungai anular biasanya terjadi pada:
  - a. gunung api muda
  - b. kubah yang tererosi
  - c. perbukitan lipatan
  - d. dataran aluvial
  - e. lereng sesar
  
24. *International Geography Olympiad 2015* akan diselenggarakan di Moskwa, Rusia. Manakah kota yang kurang lebih memiliki garis lintang yang sama dengan kota Moskwa?
  - a. Kopenhagen, Denmark
  - b. Roma, Italia
  - c. Madrid, Spanyol
  - d. Istanbul, Turki
  - e. St. Petersburg, Rusia

25. Manakah yang bukan merupakan bekas konstituen Republik Federasi Sosialis Yugoslavia?
- Kroasia
  - Slovenia
  - Slowakia
  - Serbia
  - Makedonia
26. Kepulauan yang dipersengketakan antara China dan Jepang baru-baru ini, yang dikenal dengan nama Senkaku atau Diaoyu terletak di laut:
- Laut Kuning
  - Laut China Selatan
  - Laut Jepang
  - Laut China Timur
  - Laut Bo Hai
27. Gurun Thar adalah gurun yang terletak di perbatasan antara negara:
- Afghanistan dan Iran
  - Iran dan Iraq
  - India dan Pakistan
  - Pakistan dan Afghanistan
  - Iraq dan Arab Saudi
28. Berikut ini adalah alasan mengapa Indonesia mengalami Baby Boom pada tahun 1950, kecuali...
- Pada waktu itu masyarakat masih percaya pada anggapan bahwa banyak anak banyak rezeki.
  - Negara Indonesia baru saja merdeka sehingga pemerintah hanya berfokus pada pertahanan kemerdekaan.
  - Masalah kependudukan kurang diperhatikan seperti belum ada atau kurangnya penggalakan program KB.
  - Masalah akibat banyaknya penduduk belum terasa karena pada waktu itu jumlah penduduk masih jarang dan wilayah Indonesia masih jarang penduduknya.
  - Pemerintah Indonesia pada waktu itu mendorong dan mensosialisasikan program penggunaan alat kontrasepsi sampai ke pelosok negeri.

29. Perhatikan data berikut ini:

Tahun	Jumlah Penduduk
1971	1.718.543
1980	2.115.384
1990	2.478.119
1995	2.649.093
2000	2.712.098
2010	2.270.596

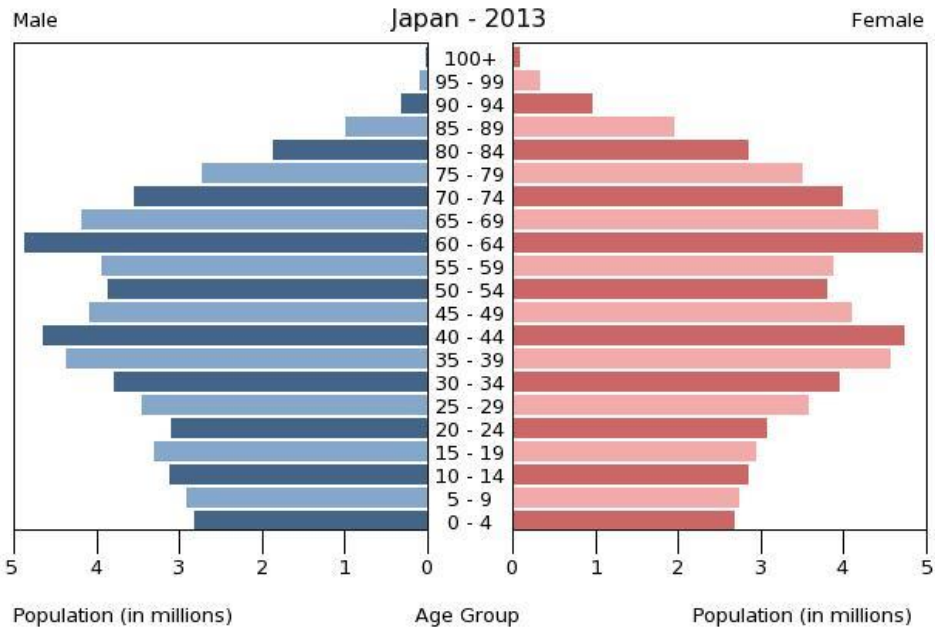


Mengapa jumlah penduduk Provinsi Sulawesi Utara mengalami penurunan tajam pada tahun 2000....

- a. Banyak penduduk yang bermigrasi ke kota-kota besar seperti Jakarta, Bandung, Surabaya.
  - b. Terjadi bencana yaitu meletusnya Gunung Lokon yang banyak menimbulkan korban jiwa.
  - c. Banjir bandang yang menyapu beberapa kabupaten di Sulawesi Utara
  - d. Pemekaran Provinsi Gorontalo yang turut serta menurunkan jumlah penduduk Provinsi Sulawesi Utara
  - e. Tingkat kelahiran yang rendah akibat keberhasilan program Keluarga Berencana dalam menekan laju pertumbuhan penduduk
30. Perubahan terhadap fertilitas dan mortalitas yang besar yang digambarkan oleh suatu model grafik perubahan penduduk dari pertumbuhan penduduk tinggi menuju pertumbuhan penduduk yang stabil adalah...
- a. Angka Kelahiran Kasar
  - b. Angka Kematian Kasar
  - c. Angka Ketergantungan Penduduk
  - d. Transisi Demografis
  - e. Piramida Penduduk



31. Perhatikan Piramida Penduduk Jepang berikut ini...



Berdasarkan gambar tersebut, manakah pernyataan berikut ini yang tidak tepat...

- Jepang mengalami penurunan tingkat kelahiran yang sangat tinggi
  - Penduduk Jepang pada umumnya mengalami penurunan reproduksi
  - Terjadi peningkatan kelahiran penduduk
  - Terjadi peningkatan penduduk yang meninggal
  - Komposisi penduduk tua, sangat banyak di Jepang
32. Negara terpadat kedua di benua Eropa adalah...
- Rusia
  - Jerman
  - Inggris
  - Perancis
  - Italia
33. Sensus yang dikenakan kepada penduduk yang benar-benar bertempat tinggal di wilayah tersebut disebut sensus....
- De facto*
  - De jure*
  - Canvaster*
  - Terbuka
  - House hold*

34. Berikut ini adalah manfaat proyeksi penduduk di suatu wilayah, kecuali...
- Proyeksi penduduk dapat menentukan kebutuhan akan bahan pangan sesuai dengan gizi serta susunan penduduk menurut jenjang usia.
  - Proyeksi penduduk dapat menentukan kebutuhan jumlah tenaga medis, dokter, obat-obatan, jumlah ruangan dan tempat tidur di rumah sakit, dan lainnya.
  - Proyeksi penduduk dapat menghitung kemungkinan tren wabah penyakit yang akan berkembang di masa yang akan datang.
  - Di bidang pendidikan, proyeksi penduduk dipakai sebagai dasar untuk memperkirakan jumlah penduduk usia sekolah, jumlah siswa, jumlah guru, gedung sekolah di masa yang akan datang.
  - Proyeksi penduduk dapat menghitung jumlah angkatan kerja, tingkat pendidikan pekerja dan dengan proyeksi angkatan kerja dalam hubungannya dengan data produktifitas merupakan dasar estimasi produksi barang dan jasa di masa yang akan datang.
35. Istilah lain dari asimilasi adalah...
- Pembauran Budaya
  - Penolakan Budaya
  - Penolakan Budaya
  - Percampuran Budaya
  - Pergantian Budaya
36. Manakah pernyataan yang benar tentang perbedaan antara budaya rakyat (*folk culture*) dan budaya populer (*popular culture*)?
- Budaya populer biasanya dilakukan oleh kelompok orang yang relatif kecil
  - Budaya populer biasanya dilakukan oleh orang yang hidup dalam isolasi dari kelompok lain
  - Budaya rakyat biasanya dilakukan oleh kelompok orang yang relatif besar
  - Budaya rakyat biasanya dilakukan oleh kelompok-kelompok yang homogen
  - Tidak ada pernyataan yang benar
37. Warga Afro-American terkonsentrasi di bagian \_\_\_\_\_ Amerika Serikat, sedangkan warga Asia-American terkonsentrasi di bagian \_\_\_\_\_ Amerika Serikat. (Pastikan untuk memilih pilihan jawaban dalam urutan yang benar.)
- Barat, Tenggara
  - Barat, Barat Laut
  - Barat, TimurLaut
  - Tenggara, Barat
  - Tenggara, Timur Laut

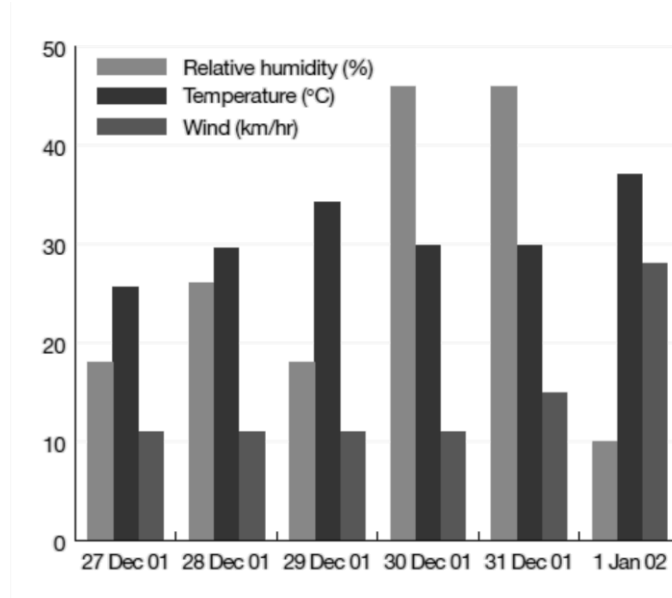
38. Berasal dari wilayah polis (Negara Kota) manakah Raja Leonidas, yang memimpin 300 pasukannya melawan ribuan pasukan Persia?
- Athena
  - Ionia
  - Odesya
  - Sparta
  - Troy
39. Salah satu alasan budaya Afrika Utara dikembangkan berbeda dari budaya di wilayah Afrika lainnya adalah karena dipisahkan oleh
- Basin Sungai Kongo
  - Danau Victoria
  - Great Rift Valley
  - Gurun Sahara
  - Laut Arab
40. Di Cina, perkembangan etnosentrisme paling dipengaruhi oleh
- Ketergantungan terhadap negara-negara asing
  - serangan Bangsa Mongol selama ratusan tahun
  - sejarah panjang pemerintahan demokratis
  - keyakinan yang kuat dalam agama konghucu
  - isolasi geografis
41. Manakah yang paling tepat menurut anda terkait pemahaman Geografi pertanian:
- Cabang geografi yang berhubungan dengan bidang budidaya tanah
  - Ilmu yang mempelajari interaksi manusia dengan alam
  - Merupakan studi pola spasial dalam kegiatan pertanian
  - Proses menghasilkan bahan pangan, ternak serta produk-produk agro industry
  - Studi terkait konsep dan lingkungan pertanian, klasifikasi system pertanian, faktor produksi dan karakteristik system pertanian, studi perkembangan, pembangunan dan penelitian system pertanian
42. Praktek pertanian yang dilaksanakan di Indonesia meliputi;
- Ladang berpindah
  - Pertanian subsisten
  - Pertanian komersil
  - Berburu dan pengumpul
  - Semuanya benar
43. Berikut ini adalah keuntungan yang dapat diperoleh dari vegetasi alami kecuali:
- Proteksi fisik lingkungan
  - Penyedia pangan dan obat
  - Penyedia bahan mentah dan bahan bakar
  - Penyedia anesthetic
  - Penyedia habitat alami

44. Desa adalah unit pemerintahan yang secara langsung berada di bawah kecamatan dengan ciri-ciri berikut ini kecuali ...
- Mempunyai wilayah tertentu.
  - Mempunyai system masyarakat sendiri.
  - Mempunyai pemerintahan sendiri.
  - Mempunyai undang-undang sendiri.
  - Mempunyai kebiasaan kehidupan pergaulan sendiri.
45. Lokasi desa dapat menjadi indikator perkembangan desa tersebut. Berikut ini beberapa kategori lokasi desa kecuali ...
- Desa yang lokasinya berada disekitar ibu kota provinsi atau kota.
  - Desa yang lokasinya di dalam kota.
  - Desa yang lokasinya berada disekitar ibukota kabupaten.
  - Desa yang lokasinya berada disekitar ibukota kecamatan atau kota kecil.
  - Desa yang lokasinya terpencil.
46. Yang tidak termasuk ciri-ciri masyarakat perkotaan adalah ...
- Individualistik
  - Spesialisasi pekerjaan
  - Modern
  - Guyub
  - Industry dan jasa
47. Yang disebut sebagai ibu kota suatu Negara adalah ...
- Pusat perdagangan
  - Pusat administrasi pemerintahan
  - Pusat militer
  - Campuran berbagai fungsi
  - Pusat pendidikan
48. Ciri-ciri fisik permukiman kota adalah sebagai berikut kecuali ...
- Kepadatan penduduk tinggi
  - Ada bangunan monumental
  - Ada batas (*border*)
  - Kepadatan penduduk rendah
  - Ruang terbuka hijau terbatas
49. *Urban renewal* adalah upaya untuk ...
- Membangun kota baru
  - Pemugaran bangunan bersejarah
  - Membangun dari desa ke kota
  - Meremajakan kawasan perkotaan yang kumuh
  - Melakukan pengecatan rumah secara serempak

50. Untuk menyusun perencanaan kota diperlukan peta-peta berikut ini kecuali ...
- Land-use*
  - Kesesuaian lahan
  - Jaringan transportasi
  - Tata air
  - Topografi
51. Rencana jangka panjang suatu kota memiliki jangka waktu ...tahunan.
- Lima
  - Seratus
  - Dua puluh
  - Lima puluh
  - Tujuh puluh lima
52. Manakah proses perencanaan yang paling tepat untuk ditempuh.
- Analisis – pengumpulan data – interpretasi peta – perumusan rencana
  - Perumusan tujuan – pengumpulan data – interpretasi peta – analisis – perumusan rencana
  - Perumusan alternative rencana – analisis – pengumpulan data –interpretasi peta
  - Interpretasi peta – pengumpulan data – perumusan alternative rencana – pemilihan alternative rencana
  - Perumusan tujuan – interpretasi peta – pengumpulan data – perumusan rencana.
53. Yang tidak termasuk kegiatan ekonomi adalah :
- Meningkatkan nilai komoditas melalui perpindahan lokasi.
  - Memanen hasil bumi.
  - Senam pagi di kantor.
  - Memuaskan kebutuhan pelanggan.
  - Meningkatkan nilai komoditas melalui perubahan kepemilikan.
54. Geografi ekonomi adalah studi tentang variasi keruangan pada permukaan bumi oleh manusia tidak termasuk ...
- produksi barang dan jasa
  - pertukaran barang dan jasa
  - konsumsi
  - administrasi kependudukan
  - pemasaran produk
55. Yang tidak termasuk Negara adi kuasa di bidang ekonomi adalah ...
- Amerika Serikat
  - Jepang
  - Inggris
  - Ghana
  - Cina

56. Yang tidak termasuk dampak positif pembangunan industri adalah ...
- Menambah penghasilan penduduk.
  - Memperbesar kegunaan bahan mentah.
  - Menghasilkan aneka barang yang diperlukan masyarakat.
  - Memperluas lapangan pekerjaan bagi penduduk.
  - Cara hidup masyarakat menjadi semakin konsumtif.
57. Hortikultura tidak mencakup hal berikut ...
- Palawija
  - Sayur-sayuran
  - Tanaman obat
  - Tanaman hias
  - Buah-buahan
58. Yang tidak termasuk dalam penggunaan lahan pertanian adalah ...
- Sawah pasang surut
  - Sawah irigasi
  - Sawah hidroponik
  - Sawah lebak
  - Sawah tadah hujan
59. Potensi terbesar energi baru dan terbarukan Indonesia adalah ... yang belum banyak dieksploitasi.
- Panasbumi
  - Gelombang Laut
  - Angin
  - Bioenergi
  - Surya
60. Di daerah apakah anda bisa menemukan kaldera dan aliran lahar dingin?
- arid
  - gurun pasir
  - pesisir
  - karst
  - vulkanik
61. Jika saya berjalan 10 km ke arah tenggara dari Danau A menuju Bukit B, kemudian saya berjalan 10 km lagi ke arah barat daya menuju Desa C, dan terakhir saya berjalan 10 km lagi ke arah barat laut menuju Lembah D, maka posisi Lembah D dari Danau A adalah
- timur laut
  - barat laut
  - tenggara
  - timur
  - barat daya

62. Perhatikan gambar di bawah ini



Hasil pengamatan meteorologi di Danau Penrith, Australia setiap pukul 15:00 waktu setempat (sumber: Australian Bureau of Meteorology)

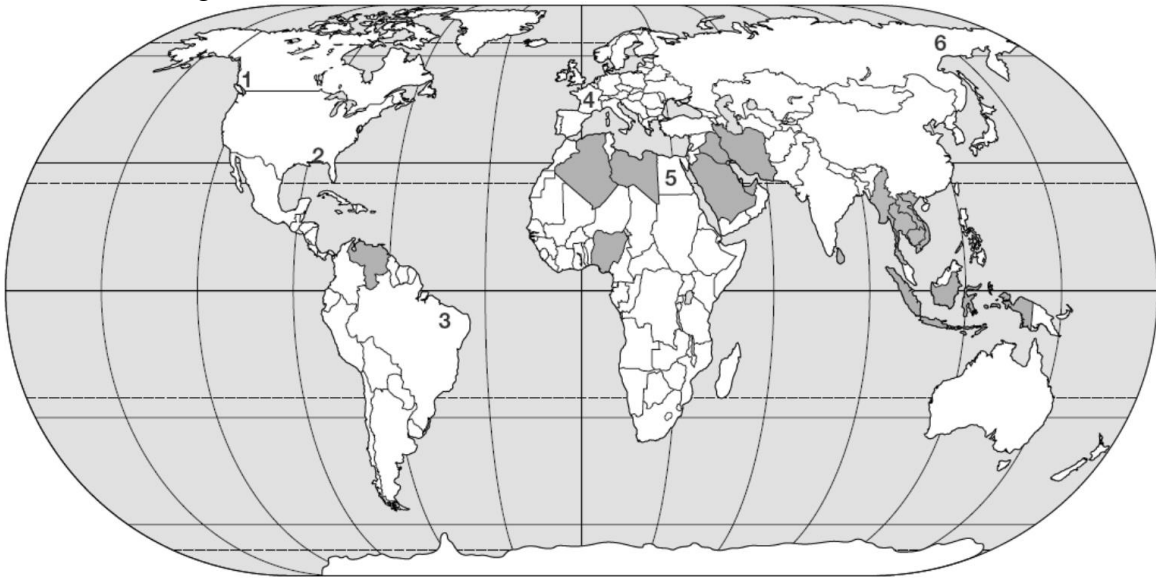
Dengan menggunakan gambar di atas, berapakah kelembapan relatif pada tanggal 1 Januari pukul 15:00?

- 10%
  - 15%
  - 28%
  - 37%
  - 50%
63. Pasangan sungai manakah yang berada pada benua yang sama?
- Amazon dan Danube
  - Gangga dan Yangtze
  - Indus dan Missouri
  - Mahakam dan Danube
  - Nil dan Rhine
64. Negara manakah yang memiliki persentase tutupan hutannya paling besar?
- Indonesia
  - Australia
  - Perancis
  - Islandia
  - Papua Nugini

65. Pada jenis peta apakah ditemukan kontur isothermal?
- kadaster
  - iklim
  - tata guna lahan
  - topografi
  - batimetri
66. Pulau Greenland, secara administratif merupakan bagian dari negara:
- Denmark
  - Jerman
  - Islandia
  - Inggris
  - Finlandia
67. Apakah terminologi yang dipakai untuk sebuah lapisan sedimen berbentuk kipas besar yang terbentuk di muara sungai?
- estuari
  - delta
  - alluvial cone
  - sand ripple
  - gumuk pasir
68. Terminologi apakah yang dipakai untuk suatu titik di permukaan bumi yang terdapat tepat di atas titik fokus gempa bumi?
- epicentre
  - fault line
  - tsunami
  - sesar
  - seismic focus
69. Titik ini dapat ditemukan dimana saja di permukaan bumi belahan utara dengan menggunakan kompas. Titik apakah itu?
- kutub utara magnetik
  - utara peta
  - kutub selatan magnetik
  - lintang
  - ekuator



70. Perhatikan gambar di bawah ini:



Titik manakah pada gambar tersebut yang memiliki iklim dengan curah hujan yang sedikit, banyak penguapan dan panas sepanjang tahun?

- a. Titik 1
  - b. Titik 2
  - c. Titik 3
  - d. Titik 4
  - e. Titik 5
71. Masih berdasarkan pada gambar di atas, mayoritas penduduk pada negara yang diberi angka 3 adalah beragama:
- a. Budha
  - b. Kristen
  - c. Hindu
  - d. Islam
  - e. Animisme
72. Apakah nama burung yang telah punah yang merupakan penghuni asli pulau Mauritius?
- a. Moa
  - b. Dodo
  - c. Kiwi
  - d. Auk
  - e. Kasuari

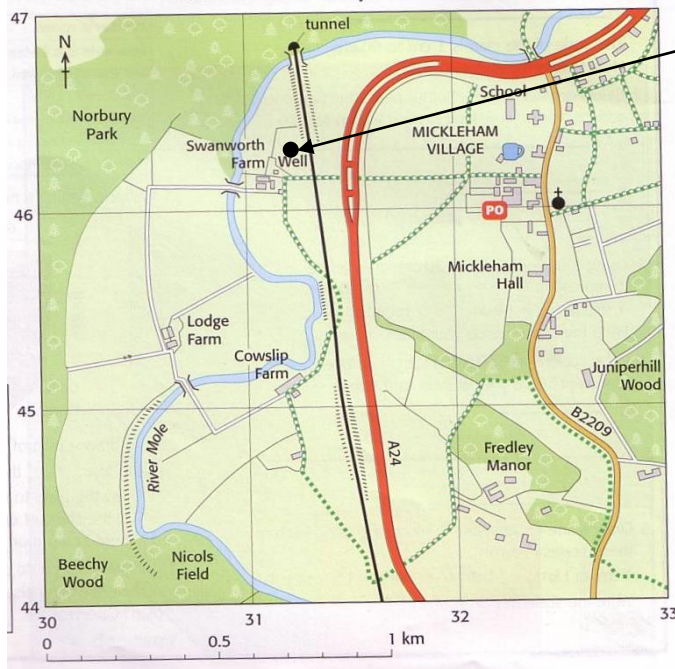
73. Konservasi Alam Wolong di Cina melindungi binatang langka yang makanannya eksklusifnya bambu, yaitu:
- Yak
  - Orangutan
  - Koala
  - Rusa Cina
  - Panda Raksasa
74. Dengan populasi yang sangat sedikit (kurang dari 5000 ekor), komodo dilindungi di beberapa pulau kecil di suatu negara, yaitu:
- Filipina
  - Australia
  - Indonesia
  - Malaysia
  - Singapura
75. Nama pegunungan dimana Gunung Aconcagua sebagai puncak tertingginya adalah:
- Bukit Barisan
  - Cordillera
  - Andes
  - Alpen
  - Rocky
76. Di samudera manakah titik laut paling dalam dalam Palung Mariana berada?
- Arktik
  - Atlantik
  - Hindia
  - Pasifik
  - Antartik
77. Negara manakah yang berbatasan dengan Afghanistan:
- Pakistan
  - Brunei Darussalam
  - Nigeria
  - Maroko
  - Mesir
78. Karakteristik apakah yang sama-sama dimiliki oleh Laos, Nepal, Rwanda dan Austria?
- memiliki garis pantai di Atlantik
  - terdapat di bagian bumi sebelah selatan
  - tidak memiliki lautan
  - terdapat di Asia
  - terdapat di Afrika

79. Pilihlah gunung yang mempunyai puncak tertinggi di antara yang lain di Indonesia:
- Gunung Kerinci
  - Gunung Rinjani
  - Gunung Semeru
  - Gunung Slamet
  - Gunung Puncak Jaya
80. Danau terbesar di Indonesia adalah
- Danau Tempe
  - Danau Toba
  - Danau Sentani
  - Danau Towuti
  - Danau Poso
81. Ibukota provinsi di Indonesia manakah yang berada paling selatan?
- Nusa Tenggara Timur
  - Bali
  - Nusa Tenggara Barat
  - Papua
  - Jawa Barat
82. Pada bulan Februari 2014 terjadi letusan Gunung Kelud yang abu letusannya mencapai beberapa daerah di sepanjang Pulau Jawa. Terletak di antara Kabupaten manakah Gunung Kelud tersebut berada?
- Solo - Boyolali
  - Yogyakarta - Magelang
  - Kediri - Blitar
  - Malang – Surabaya
  - Ponorogo - Kediri
83. Provinsi manakah yang menjadi provinsi terbaru di Indonesia?
- Sulawesi Barat
  - Banten
  - Kepulauan Riau
  - Bangka Belitung
  - Kalimantan Utara
84. Sungai Mahakam bermuara di salah satu kota besar di Kalimantan yaitu?
- Samarinda
  - Balikpapan
  - Banjarmasin
  - Pontianak
  - Palangkaraya

85. Pasangan manakah yang cocok antara komoditas dan daerah penghasilnya di Indonesia dari daftar berikut?
- Padi – Jawa Barat
  - Kelapa Sawit – Jawa Tengah
  - Teh – Kalimantan Selatan
  - Kopi – Papua
  - Jagung – Sulawesi Tenggara
86. Menurut anda, daerah manakah di bawah ini yang memiliki temperatur udara relatif lebih rendah dibandingkan dengan yang lain?
- Bandung, Jawa Barat
  - Jakarta
  - Batu, Jawa Timur
  - Padang, Sumatera Barat
  - Mataram, Nusa Tenggara Timur
87. Berapakah jumlah penduduk Indonesia berdasarkan sensus penduduk tahun 2010?
- 167.902.789 orang
  - 423.987.209 orang
  - 237.556.363 orang
  - 301.654.943 orang
  - 562.789.298 orang
88. Laju pertumbuhan penduduk rata-rata seluruh Indonesia berdasarkan hasil sensus tahun 2010 adalah?
- 2,10 %
  - 0,25 %
  - 0,57 %
  - 2,78 %
  - 1,49 %
89. Pada uang seribu rupiah, terdapat lukisan pulau Maitara dan Tidore. Pada provinsi apakah kedua pulau ini terletak?
- Provinsi Maluku
  - Provinsi Papua Barat
  - Provinsi Papua
  - Provinsi Nusa Tenggara Timur
  - Provinsi Maluku Utara
90. Kota apakah yang menjadi tuan rumah Olimpiade Musim Dingin 2014?
- Bergen, Norwegia
  - Murmansk, Rusia
  - Tromsø, Norwegia
  - Sevastopol, Ukraina
  - Sochi, Rusia

91. Selat yang memisahkan Madagaskar dan Afrika dikenal dengan nama:
- Selat Mozambik
  - Selat Madagaskar
  - Selat Merah
  - Selat Sidra
  - Selat Kanari
92. Suku yang merupakan penduduk asli Selandia Baru bernama:
- Aborigin
  - Asmat
  - Maori
  - Mikronesia
  - Melanesia
93. Teluk terbesar di bagian utara Australia memiliki nama:
- Teluk Joseph Bonaparte
  - Teluk Besar Australia
  - Teluk Karpentaria
  - Teluk Van Diemen
  - Teluk York
94. Manakah dari pernyataan dibawah ini menyatakan peta dengan skala paling besar :
- 1: 10.000
  - 1: 25.000
  - 1: 50.000
  - 1:100.000
  - 1:500.000
95. Pilih yang mana pernyataan dibawah ini yang benar, informasi apakah yang diwakili oleh simbol pada sebuah peta:
- Judul dari peta
  - Skala dari peta
  - Legenda dari peta
  - Grid dari peta
  - Nomor dari peta
96. Manakah pernyataan berikut ini yang tidak benar:
- Lintang adalah garis horizontal dengan arah dari timur ke barat melingkari bumi
  - Bujur adalah garis vertikal dengan arah dari kutub utara ke kutub selatan melingkari bumi
  - Garis garis bujur konvergen pada kutub utara dan kutub selatan
  - Garis nol dari Lintang melalui Equator.
  - Lingkarannya Antartic adalah bujur dan Lingkaran Antartic adalah Lintang.

97. Lihatlah peta di bawah ini:



Tentukan berapa nilai dari koordinat pada peta sebelah kiri ini ?

- a. 463, 315
- b. 317, 467
- c. 313, 463
- d. 315, 465
- e. 325, 654

98. Manakah di bawah ini negara yang tidak berbatasan baik darat maupun laut dengan Indonesia?

- a. Malaysia
- b. Brunei Darussalam
- c. Vietnam
- d. Filipina
- e. Republik Palau

99. Ibukota Provinsi Kepulauan Riau adalah:

- a. Tanjung Pinang
- b. Batam
- c. Natuna
- d. Pekanbaru
- e. Pangkal Pinang

100. Situs purbakala Gunung Padang terletak di Provinsi:

- a. Sumatera Selatan
- b. Sumatera Barat
- c. Jawa Barat
- d. Lampung
- e. Banten