



**SOAL SELEKSI  
OLIMPIADE TINGKAT KABUPATEN/KOTA 2010  
BIDANG EKONOMI**

Waktu : 120 Menit



**KEMENTERIAN PENDIDIKAN NASIONAL  
DIREKTORAT JENDERAL MANAJEMEN PENDIDIKAN DASAR DAN MENENGAH  
DIREKTORAT PEMBINAAN SEKOLAH MENENGAH ATAS  
TAHUN 2010**



Certificate No. 10002146



**SOAL SELEKSI  
OLIMPIADE TINGKAT KABUPATEN/KOTA 2010  
BIDANG EKONOMI**

Waktu : 120 Menit



**KEMENTERIAN PENDIDIKAN NASIONAL  
DIREKTORAT JENDERAL MANAJEMEN PENDIDIKAN DASAR DAN MENENGAH  
DIREKTORAT PEMBINAAN SEKOLAH MENENGAH ATAS  
TAHUN 2010**



Certificate No. 1209921-01



**KEMENTERIAN PENDIDIKAN NASIONAL**  
**DIREKTORAT JENDERAL MANAJEMEN PENDIDIKAN DASAR DAN MENENGAH**  
**DIREKTORAT PEMBINAAN SEKOLAH MENENGAH ATAS**  
Alamat Kantor Jalan R.S.Fatmawati – Cipete Jakarta Selatan 12010  
Telp. 75902679, 7694409, 7694140, 75912056, 75914130 Fax. 7696033, 75912057

---

### PETUNJUK

1. Periksalah terlebih dahulu soal yang Anda terima, apakah dalam keadaan baik, lengkap dan jelas, sebelum Anda mengerjakan.
2. Jumlah lembar soal pilihan ganda sebanyak 29 halaman.
3. Jawaban dikerjakan pada lembar jawaban yang telah disediakan.
4. Pengerjaan soal diperbolehkan menggunakan kalkulator hitung.
5. Jawaban pada pilihan ganda dengan memberikan tanda X (silang) pada pilihan jawaban yang Anda anggap benar. Untuk mengubah jawaban berilah tanda = pada jawaban yang anda anggap salah, kemudian silanglah jawaban yang Anda anggap benar lainnya. Jika menggunakan lembar isian komputer dengan cara menghitamkan pilihan pada huruf yang dianggap benar.
6. Waktu pengerjaan soal ekonomi 120 menit.
7. Jika sudah selesai mengerjakan serahkan lembar soal dan jawaban kepada pengawas.



**Pilihlah salah satu jawaban yang Anda anggap benar, dengan memberikan tanda (disilang, atau dihitamkan) sesuai dengan lembar jawaban yang tersedia!**

1. Berikut ini adalah beberapa permasalahan ekonomi yang terjadi di masyarakat:
  1. Kebutuhan manusia yang tidak terbatas menimbulkan keserakahan manusia, sehingga terjadi eksplorasi sumberdaya alam secara membabi buta tanpa memerhatikan aspek lingkungan.
  2. Dalam menentukan barang atau jasa apa yang akan diproduksi memerlukan kecerdasan seorang wirausaha dalam menciptakan inovasi dan penemuan hal-hal yang baru.
  3. Untuk memproduksi barang atau jasa perlu dipikirkan teknologi yang tepat guna dan berdaya guna agar terjadi efisiensi, sehingga dapat memberikan keuntungan bagi produsen.
  4. Sumberdaya alam yang keberadaannya sangat terbatas perlu diatur tatacara eksplor dan penggunaannya, sehingga tidak merusak lingkungan yang dapat menimbulkan bencana alam.
  5. Dalam memproduksi barang seorang produsen perlu memerhatikan untuk konsumen yang mana barang tersebut diproduksi, sehingga tidak salah produksi.

Permasalahan di atas yang merupakan permasalahan ekonomi modern adalah butir....

- A. 1, 2, dan 3
  - B. 1, 3, dan 5
  - C. 2, 3, dan 5
  - D. 2,4, dan 5
  - E. 3, 4, dan 5
- 
2. Fajar mempunyai uang sebesar Rp50.000. Dengan uang itu, Fajar dapat membeli satu potong baju atau 2 buah buku sekolah dengan harga masing-masing Rp25.000,00. Ketika dia memutuskan membeli 2 buah buku, maka biaya peluang yang timbul adalah...
    - A. Rp50.000,00
    - B. Rp25.000,00
    - C. tidak dapat membeli satu potong baju

- D. tidak dapat membeli dua potong baju
- E. tidak ada

3. Permasalahan ekonomi yang banyak dihadapi oleh negara-negara berkembang termasuk Indonesia adalah... .

- A. listrik yang belum masuk daerah-daerah terpencil
- B. kesehatan masyarakat pedesaan yang masih buruk
- C. jumlah penduduk yang terlalu banyak
- D. tingginya kriminalitas di wilayah perkotaan
- E. tingginya tingkat pengangguran

4. Perhatikan matrik di bawah ini:

A	B	C
1. Perusahaan boleh didirikan oleh siapa pun, masyarakat yang menginginkannya.	1. Setiap orang boleh memiliki faktor-faktor produksi atau barang/jasa yang kehendaki.	1. Setiap orang bekerja dan ditempatkan oleh pemerintah untuk kepentingan negara.
2. Di negara tersebut yang ada hanya perusahaan milik pemerintah.	2. Bumi dan air, beserta isinya adalah milik Negara.	2. Setiap orang berhak mengembangkan diri seluas-luasnya.

Berdasarkan tabel di atas yang merupakan ciri sistem ekonomi komando adalah....

- A. A1, B1 dan C2
- B. A1, B2 dan C1
- C. A1, B2 dan C2
- D. A2, B1 dan C2
- E. A2, B2 dan C1

5. The statement below are how to identify input and output market:

- 1) Supply comes from the producer doorstep home
- 2) Supply comes from the consumer doorstep home
- 3) Demand comes from the producer doorstep home
- 4) Demand comes from the consumer doorstep home

The statement which is represents the characteristic of input market are point....

- A. 1 and 3
- B. 1 and 4
- C. 2 and 3
- D. 2 and 4
- E. 3 and 4

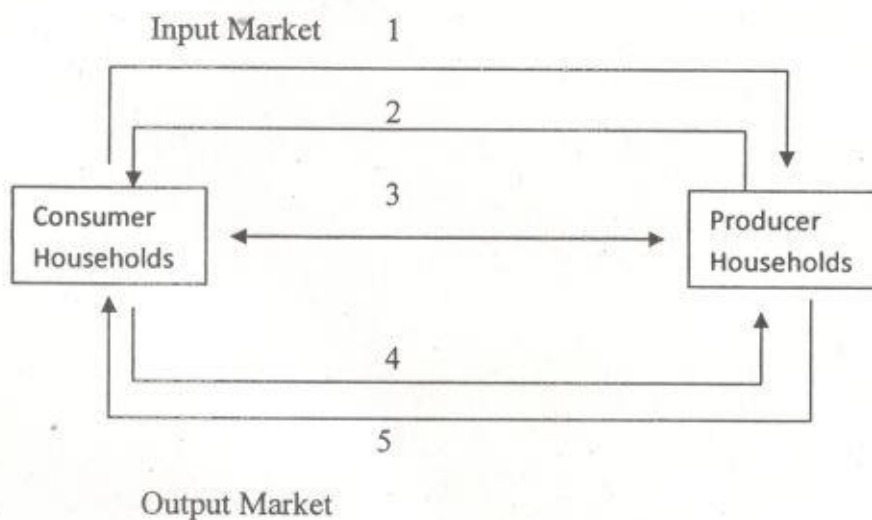
6. Kondisi ekonomi yang terjadi di negara X diantaranya adalah sebagai berikut:

1. Kondisi masyarakatnya sedang berangsur-angsur terjadi perubahan dari masyarakat agraris menjadi masyarakat industri.
2. Pada tahun ini terjadi kenaikan pendapatan per kapita yang cukup signifikan yaitu sekitar 6% dari tahun sebelumnya.
3. Peningkatan kemakmuran mulai dirasakan oleh masyarakat karena kesenjangan antara si kaya dan si miskin semakin kecil.
4. Kenaikan pendapatan nasional negara X menduduki urutan ke 2 di dunia menurut hasil survei dari suatu lembaga survei internasional.

Kondisi di atas, yang merupakan ciri pembangunan ekonomi adalah butir ....

- A. 1 dan 2
- B. 1 dan 3
- C. 2 dan 3
- D. 2 dan 4
- E. 3 dan 4

7. Pengangguran merupakan permasalahan ekonomi yang berdampak pada masalah sosial dan keamanan. Untuk mengatasinya dapat dilakukan dengan cara-cara berikut ini, kecuali ....
- Memperluas kesempatan kerja
  - Meningkatkan kualitas SDM
  - Melaksanakan program padat karya
  - Melakukan pengiriman tenaga kerja keluar negeri
  - Meningkatkan kesejahteraan pegawai
8. Look at the following diagram that shows the interaction between the producer and the consumer of households below:



Based on the diagram above the link that shows the money flow is point ....

- 1
- 2
- 3
- 4
- 5



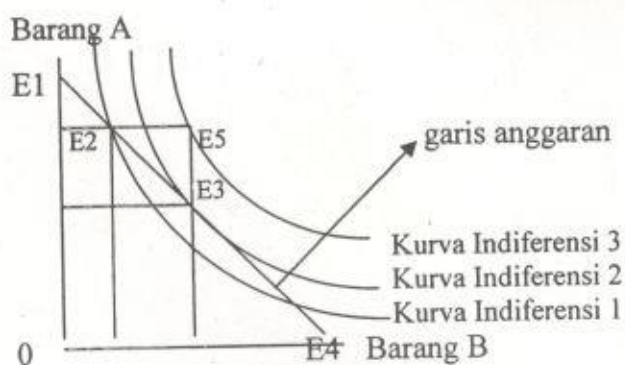
9. Proses globalisasi ekonomi maupun kerjasama ekonomi internasional akan berpengaruh terhadap perekonomian suatu negara termasuk Indonesia. Yang perlu dilakukan oleh negara kita adalah....

- A. memperluas penciptaan kesempatan kerja yang dapat meningkatkan pendapatan dan kesejahteraan masyarakat
- B. meningkatkan kegiatan ekonomi melalui investasi langsung, usaha patungan dan kredit
- C. lebih giat melakukan inovasi dalam menghadapi persaingan dalam perdagangan bebas
- D. meningkatkan devisa negara melalui peningkatan perdagangan internasional
- E. membuka peluang baru berupa tersebarnya pasar yang berskala lebih luas

10. *Price Consumption Curve* adalah kurva yang...

- A. menunjukkan korelasi berbagai tingkat harga dengan jumlah barang yang dikonsumsi
- B. menunjukkan korelasi berbagai tingkat pendapatan dengan jumlah barang yang dikonsumsi
- C. menunjukkan berbagai kombinasi konsumsi dua macam barang yang memberikan kepuasan sama
- D. menghubungkan titik-titik keseimbangan konsumen apabila terjadi perubahan harga salah satu macam barang
- E. menghubungkan titik-titik keseimbangan konsumern apabila terjadi perubahan pendapatan konsumen

11. Perhatikan Grafik di bawah ini!



Kepuasan maksimum dicapai pada titik...



- A. E1
- B. E2
- C. E3
- D. E4
- E. E5

12. A boy who possesses Rp1.000,00 is confronted with two choices either to buy a piece of cake or salted egg. The price of the cake equals with a salted egg. If he determines to buy the cake, he can't buy the egg and on other way round.

The act of making decision in economics is known as...

- A. the principle of opportunity cost
- B. the cost of doctrine alternative
- C. the law of scarcity
- D. the law of diminishing return
- E. the principle of economic

13. The supply and demand of textile materials at Surabaya Show in the function below:

$$Q_d = 180 - 20P$$

$$Q_s = -20 + 5P$$

Based on those two functions, the equilibrium price of textile material in Surabaya is ....

- A. 3
- B. 5
- C. 7
- D. 8
- E. 10

14. At harvest days, rice prices only reaches Rp3.000.000,00 per ton and the demand reaches 30 tons, but at the time of scarcity before harvest days, rice prices bounce high and reaches

Rp4.000.000,00 per ton with the demand only about 25 tons. Based on data above, the coefficient of demand elasticity is ....

- A. 0,045
- B. 0,06
- C. 0,50
- D. 2,00
- E. 5,00

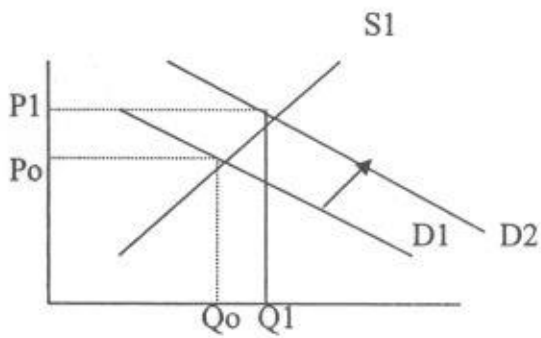
15. Pengangguran yang terjadi karena bencana alam, seperti hilangnya pekerjaan karena banjir, gunung meletus, dan tsunami merupakan bentuk ....

- A. *force unemployment*
- B. *seasonal unemployment*
- C. *cyclical Unemployment*
- D. *disguised unemployment*
- E. *frictional unemployment*

16. In the year 0f 2009 the population of Indonesia is 245.000.000 persons. The total amount of government revenue in APBN (National/State budget) is Rp. 1.274.800.000.000 with the Gross National Product of Rp. 1.325.870.000.000. Based on the data below, the amount of income per capita in 2009 is ... .

- A. Rp. 5.203,26
- B. Rp. 5.411,71
- C. Rp. 1.004,06
- D. Rp. 5.320,26
- E. Rp. 5.412,87

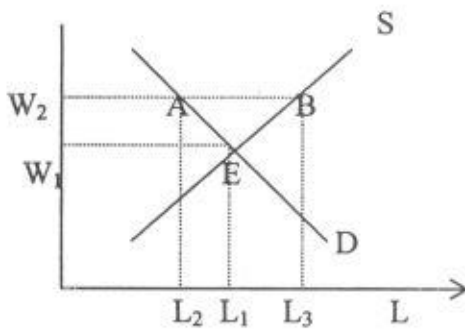
17.



Demand curve shift from  $D_1$  to  $D_2$ , the price increase from  $P_0$  to  $P_1$  and the quantity demand increases from  $Q_0$  to  $Q_1$ . Increasing in price happens because of the...

- A. trend of technology
- B. increasing in consumer's income
- C. excess demand
- D. increasing in cost of production
- E. increasing in high quality

18. This is the curve of employment market:



Based on the curve above the point of the increasing in wages from  $W_1$  to  $W_2$  will cause ...

- A. supply and demand's employees aren't impacted
- B. lack on demand of the employees
- C. increasing in supply of the employees
- D. excess in supply of the employees
- E. excess in demand of the employees