

**Pilihlah salah satu jawaban yang benar dengan memberikan tanda silang pada lembar jawaban!**

1. Persoalan pokok perekonomian adalah ... .
  - a. perkembangan ekonomi terbatas
  - b. pemuas kebutuhan tidak terbatas
  - c. pendapatan dan pengeluaran
  - d. bertambahnya jumlah penduduk
  - e. alat pemuas kebutuhan terbatas
  
2. "Doing an analysis on who will use a certain product" is needed by producers to overcome an economic problem on....
  - a. what
  - b. who
  - c. where
  - d. how
  - e. for whom

3. Perhatikan tabel berikut ini!

Tanah ( ha )	Tenaga Kerja	Produk Total
0,1	0	-
0,1	1	10
0,1	2	24
0,1	3	39
0,1	4	52
0,1	5	60
0,1	6	63
0,1	7	63
0,1	8	56

Berdasarkan tabel di atas, hasil produksi yang paling optimal adalah dikerjakan oleh tenaga kerja sebanyak ....

- a. 2
  - b. 3
  - c. 4
  - d. 5
  - e. 6
- 
4. When the price of a "Lancer" Notebook is Rp 5.000.000,00/unit, the demand is 80 units. If the price increases 10%, the demand decreases to 60 units. Based on that data, the demand's function is ....
    - a.  $Q = -4 P + 1200$
    - b.  $Q = 4P - 1200$
    - c.  $Q = -0,04P + 120$
    - d.  $Q = 4P - 280$
    - e.  $5Q = -20 P + 600$

5. Diketahui data harga sembako di Jakarta:

Jenis Barang	Tahun	
	2006	2007
1. Gula	Rp 5.000,00	Rp 7.000,00
2. Telur	Rp 9.000,00	Rp 10.000,00
3. Terigu	Rp 4.500,00	Rp 7.000,00

Berdasarkan data di atas, dengan tahun 2006 sebagai tahun dasar, maka laju inflasi sembako tahun 2007 di Jakarta sebesar ....

- 55,55%
- 40%
- 35,51%
- 29,73%
- 29%

6. Sebelum bekerja pengeluaran Daniel sebesar Rp 1.500.000,00 sebulan. Setelah bekerja dengan penghasilan sebesar Rp 5.000.000,00 pengeluarannya sebesar Rp 4.500.000,00

Fungsi konsumsi Daniel dapat dinyatakan sebagai ....

- $C = 1.500.000 + 0,6 Y$
- $C = 3.500.000 + 0,6 Y$
- $C = 1.500.000 + 0,4 Y$
- $C = - 1.500.000 + 0,4 Y$
- $C = -3.500.000 + 0,6 Y$

7. Penerimaan sektor pajak dan retribusi:

- PBB tertunggak menurut data dari biro pusat statistik 24 %
- penerimaan retribusi parkir sebagian besar tidak masuk ke kas pemerintah
- Pada saat ini penerimaan pajak reklame meningkat
- Penerimaan pajak kendaraan bermotor meningkat
- Pajak penghasilan tertinggi dibanding sektor lainnya

Pernyataan di atas yang merupakan sumber penerimaan pemerintah daerah adalah ....

- 1, 2 dan 3
- 1, 3 dan 5
- 2, 3 dan 4
- 2, 4 dan 5
- 3, 4 dan 5

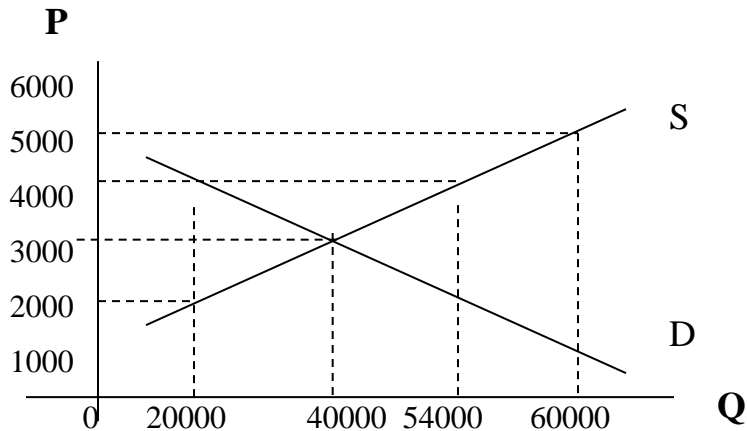
8. Hal hal berikut ini berkaitan dengan Bank Sentral:
- 1) Memelihara kestabilan nilai uang
  - 2) Menerbitkan dan mengeluarkan uang kertas
  - 3) Mengawasi kegiatan Bank Umum
  - 4) Memberikan kredit jangka pendek dan jangka panjang

Yang merupakan tugas pokok Bank Sentral yaitu butir ....

- a. 1, 2, dan 3
  - b. 1, 2, dan 4
  - c. 1, 3, dan 4
  - d. 2, 3, dan 4
  - e. 2 dan 4
9. The Central Bank is doing selling and buying marketable securities in money market. Those things are to stabilize the money and goods streams in economical. This Central Bank's policy is often called ....
- a. the selective credit policy
  - b. the open market policy
  - c. the Cash Ratio policy
  - d. the discount policy
  - e. sanering
10. Pasar yang di dalamnya terdapat beberapa produsen yang menguasai pasar tersebut, sehingga sangat dominan dalam menentukan harga disebut pasar....
- a. monopoli
  - b. monopsoni
  - c. oligopoli
  - d. oligopsoni
  - e. persaingan monopolistik
11. Which is not the characteristic of the perfect competition market....
- a. easy entering into the industry
  - b. affecting on each company
  - c. large numbers of companies
  - d. produced the same goods
  - e. the price is fixed by the market
12. Pernyataan berikut ini adalah benar berkaitan dengan pasar monopoli, yaitu....
- a. kurva permintaan yang dihadapi monopolis adalah kurva permintaan pasar
  - b. monopolis tidak akan menderita rugi karena merupakan satu-satunya perusahaan dalam industri
  - c. monopolis akan memperoleh laba maksimum kalau berproduksi pada saat penerimaan totalnya (TR) maksimum
  - d. monopolis akan memperoleh laba maksimum kalau berproduksi pada saat biaya rata-ratanya (AC) minimum
  - e. agar labanya maksimum, monopolis berproduksi pada saat  $P = MR = MC$

13. Macam biaya berikut ini tidak mengalami kenaikan bila jumlah output yang diproduksi ditambah, yaitu....
- Biaya marginal
  - Biaya rata-rata
  - Biaya variable rata-rata
  - Biaya tetap
  - Biaya variabel
14. APBN dan APBD terdapat beberapa pernyataan sebagai berikut
- APBN disusun oleh pemerintah dan disahkan oleh DPR
  - APBN diawali bulan Maret dan berakhir bulan April
  - APBD disusun oleh DPRD dan disahkan oleh Bupati / Gubernur
  - APBD diawali bulan Januari dan berakhir bulan Desember
- Dari uraian di atas, pernyataan yang benar adalah....
- 1 dan 2
  - 1 dan 4
  - 2 dan 3
  - 2 dan 4
  - 3 dan 4
15. Mobil mempunyai permintaan yang bersifat ....
- inelastis, harga naik 10% permintaannya berkurang lebih besar dari 10%
  - inelastis, harga turun 10% permintaannya bertambah lebih kecil dari 10%
  - elastis, harga naik 10% permintaannya bertambah lebih besar dari 10%
  - elastis, harga turun 10% permintaannya bertambah lebih besar dari 10%
  - elastis, harga naik Rp 10 juta, permintaannya berkurang lebih besar dari 10 unit
16. Perpindahan penduduk dari berbagai daerah ke kota-kota besar memengaruhi permintaan terhadap barang dan jasa di kota-kota besar tersebut. Pengaruh permintaan terhadap barang dan jasa tersebut merupakan satu faktor permintaan berikut ini, yaitu....
- jumlah pendapatan masyarakat yang meningkat
  - karakteristik penduduk di perkotaan yang berubah
  - perubahan selera masyarakat, khususnya di perkotaan
  - kondisi sosial ekonomi masyarakat yang semakin meningkat
  - harga barang komplementer yang relatif sama
17. If producers predict that the economic situations in a year later will be better, then at this moment they will produced more goods and services to sell. This means the factor that affects supply is....
- production's tools supply
  - producers expectations
  - technology's improvement
  - goods and services's price
  - number of producers is increasing

18. Perhatikan grafik berikut!



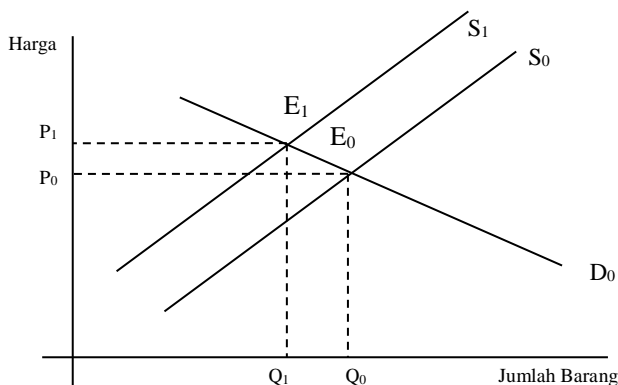
Berdasarkan grafik di atas, pada saat harga Rp3.000,00 jumlah permintaan 40.000 unit. Jika harga berubah menjadi Rp4.000,00 jumlah barang yang diminta adalah ....

- bertambah 10.000 unit
- berkurang 10.000 unit
- berkurang 20.000 unit
- bertambah 20.000 unit
- bertambah 14.000 unit

19. Indonesia pada tahun 2004 mempunyai penduduk 221.000.000 orang, jumlah penerimaan pemerintah dalam APBN Rp1.074.502.000.000,00 serta pendapatan nasional pada tahun 2004 sebesar: Rp 1.079.364.000.000,00 Berdasarkan data diatas, besar pendapatan perkapita tahun 2004 adalah ...

- Rp 4.840,00
- Rp 4.862,00
- Rp 4.884,00
- Rp 4.906,20
- Rp 4.928,40

20.

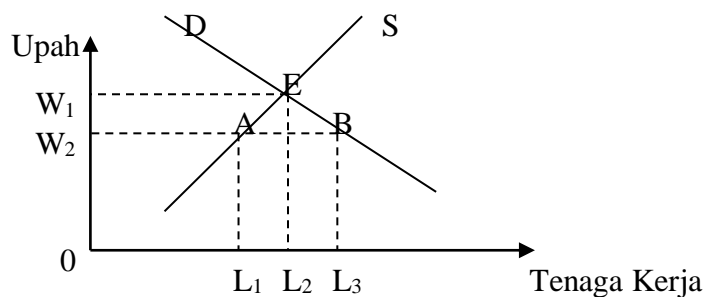


Penawaran (S) bergeser dari S<sub>0</sub> ke S<sub>1</sub>, harga naik dari P<sub>0</sub> ke P<sub>1</sub> dan jumlah permintaan menurun dari Q<sub>0</sub> menjadi Q<sub>1</sub>. Kenaikan harga ini disebabkan oleh ....

- a. perkembangan teknologi
  - b. bertambahnya penawaran
  - c. kelebihan permintaan
  - d. kenaikan biaya produksi
  - e. peningkatan kualitas produk
21. Pada saat harga Rp5.000,00 per unit, jumlah barang yang ditawarkan 20 unit. Kemudian harga turun menjadi Rp4.500,00 per unit, jumlah barang yang ditawarkan menjadi 10 unit.  
Berdasarkan data di atas, besarnya koefisien elastisitas penawaran adalah ....
- a. 6,0
  - b. 5,0
  - c. 2,0
  - d. 0,5
  - e. 0,2
22. Perhatikan pernyataan tentang Inflasi dan Deflasi berikut ini:
1. Harga barang turun terus menerus
  2. Jumlah uang yang beredar semakin berkurang
  3. Masyarakat senang menyimpan barang dari pada uang
  4. Harga barang naik terus menerus
  5. Masyarakat cenderung mengambil uang simpanan untuk segera dibelanjakan
- Dari pernyataan di atas yang merupakan ciri inflasi adalah . . .
- a. 1, 2 dan 3
  - b. 1, 2 dan 4
  - c. 1, 3 dan 5
  - d. 2, 3 dan 4
  - e. 3, 4 dan 5
23. Di bawah ini data yang diperlukan dalam perhitungan pendapatan nasional:
- Upah = Rp 12.000.000,00  
 Laba = Rp 9.000.000,00  
 Pengeluaran pemerintah = Rp 10.000.000,00  
 Pendapatan bunga = Rp 6.000.000,00  
 Pendapatan sewa = Rp 8.000.000,00  
 Pengeluaran rumah tangga swasta = Rp 36.000.000,00  
 Impor = Rp 5.000.000,00  
 Konsumsi = Rp 25.000.000,00  
 Ekspor = Rp 7.000.000,00
- Berdasarkan data di atas, besarnya pendapatan nasional dengan menggunakan metode pengeluaran adalah ....
- a. Rp 35.000.000,00
  - b. Rp 69.000.000,00
  - c. Rp 73.000.000,00
  - d. Rp 104.000.000,00
  - e. Rp 108.000.000,00

24. Setiap negara tidak mungkin melaksanakan tugas dan kewajibannya tanpa bantuan dari negara lain. Namun demikian harus disadari bahwa setiap negara memiliki kelebihan dan kekurangan. Berdasarkan hal itu maka terjadilah perdagangan internasional. Timbulnya perdagangan internasional disebabkan setiap negara ....
- Memperoleh keuntungan yang sama
  - Mempunyai ciri kebudayaan yang sama
  - Tidak dapat mengadakan spesialisasi produksi
  - Memiliki perbedaan sumber daya alam
  - Mempunyai persamaan iklim dan sosial
25. Konsumsi masyarakat suatu negara ditunjukkan oleh persamaan  $C = 30 + 0,8Y$ . Bila tabungan sebesar Rp 20,00 maka konsumsi sebesar ....
- Rp 290,00
  - Rp 270,00
  - Rp 250,00
  - Rp 230,00
  - Rp 220,00
26. To make the abundant labor in Indonesia become an effective power in development, is needed....
- the professionals from abroad
  - make the curriculum connected with the work's chance
  - make the courses and educations for the labor
  - make the courses that suitable with the conditions and work fields
  - send the labor to have practices abroad

27. Kurva pasar tenaga kerja:



Kurva pasar tenaga kerja di atas menunjukkan pada saat upah turun dari  $W_1$  ke  $W_2$ , maka akan terjadi ....

- permintaan dan penawaran tenaga kerja tidak terpengaruh
- kekurangan/penurunan permintaan tenaga kerja
- penambahan penawaran tenaga kerja
- kelebihan penawaran tenaga kerja
- kelebihan permintaan tenaga kerja

28. In 2008, the X country has an increasing in produced goods and services. Meanwhile the Y country in the same year has an improvement in poor society's prosperity. From the statements above, we can conclude that ....
- the X country has changes, while the Y country has growth
  - the X country has growth, while the Y country has changes
  - the X country and the Y country has development
  - the X country and the Y country has growth
  - the X country and the Y country hasn't growth or development
29. Ciri-ciri umum pertumbuhan ekonomi dan pembangunan ekonomi, antara lain:
- 1) Terjadinya peningkatan GNP dan pendapatan per kapita dari tahun ke tahun
  - 2) Peningkatan GNP dan pendapatan per kapita tidak disertai pemerataan
  - 3) Mengalami perubahan struktur ekonomi
  - 4) Ditemukan sumber-sumber produktif dan kurang dapat didayagunakan dengan baik karena tidak efisien
  - 5) Adanya inovasi dan penguasaan teknologi baru serta pengembangan ilmu pengetahuan dan teknologi
- Yang termasuk ciri-ciri pembangunan ekonomi adalah butir ....
- 1, 2, dan 3
  - 1, 2, dan 4
  - 1, 3, dan 5
  - 2, 3, dan 4
  - 2, 3, dan 5
30. In collecting taxes, we must consider the effectiveness and efficiency, it means that considering to make the tax collect's cost is not more than the tax collect's result. That statement is suitable with the principal of...
- equality
  - certainty
  - economics
  - suitable
  - law certainty
31. Pak Bambang memiliki sebidang tanah seluas 250 m<sup>2</sup>, di atasnya dibangun rumah seluas 90 m<sup>2</sup>. Taksiran harga jual tanah per m<sup>2</sup> Rp 50.000,00, sedangkan taksiran harga jual bangunan per m<sup>2</sup> Rp 100.000,00 Apabila menggunakan peraturan:
- (0,5% x 20% NJOP) untuk bumi
  - BTKP sebesar Rp 8.000.000,00, maka besarnya PBB yang harus dibayar Pak Bambang adalah ....
- Rp 12.500,00
  - Rp 13.500,00
  - Rp 16.500,00
  - Rp 21.500,00
  - Rp 27.000,00



32. Hadi bekerja pada perusahaan asing dengan penghasilan kena pajak Rp300.000.000,00 setahun. Berdasarkan (Pasal 7, UU No. 17 tahun 2000), pajak terutang Hadi per tahun adalah ....
- Rp 52.500.000,00
  - Rp 56.000.000,00
  - Rp 68.250.000,00
  - Rp 71.250.000,00
  - Rp 85.000.000,00
33. Surat berharga di pasar modal yang menunjukkan penyertaan modal dalam suatu perusahaan disebut ....
- obligasi
  - reksadana
  - saham
  - deposito
  - waran
34. Below these are the subject who involved in capital market:
- trustee
  - securities company
  - custodian bank
  - mutual fund
- The participant in stock exchange transaction are....
- 1, 2, and 3
  - 2, 3, and 4
  - 2 and 4
  - 3 and 4
  - 3 and 5
35. Mr. Yurigama wisatawan Jepang yang berkunjung ke Indonesia dan menukarkan uangnya di bank setempat sejumlah Yen 20.000,00. Jika kurs beli Yen 1,00 = Rp 80,00 dan kurs jual Yen 1,00 = Rp. 90,00, maka yang diterima Mr. Yurigama sebesar ....
- Rp 160.000,00
  - Rp 180.000,00
  - Rp 1.600.000,00
  - Rp 1.800.000,00
  - Rp 16.000.000,00
36. Akuntansi adalah seni dari pencatatan, penggolongan, dan peringkasan transaksi atau kejadian yang bersifat keuangan dengan cara yang tepat (berdaya guna) dan dalam bentuk satuan uang, serta penafsiran hasil proses tersebut. Pengertian akuntansi tersebut adalah menurut lembaga ....
- ACIPA
  - AICPA

- c. APCIA
  - d. AAA
  - e. APCAI
37. Based on the economics information, the management can make planning, whether is the short terms, middle, or even the long terms. This statement is it means the accounting is usefull for ....
- a. planning
  - b. controlling
  - c. responsibility
  - d. organization
  - e. reporting
38. Informasi akuntansi harus dapat memenuhi kebutuhan para penggunanya dalam rangka mengambil keputusan ekonomi. Hal ini sesuai dengan syarat laporan keuangan ....
- a. relevan
  - b. netral
  - c. daya banding
  - d. dapat dimengerti
  - e. tepat waktu
39. A financial report is used for a basis to calculate the value added tax's company. It means the report is useful for ....
- a. the management
  - b. the owner
  - c. the investor
  - d. the government
  - e. the employee
40. Bidang akuntansi yang khusus berhubungan dengan penetapan prosedur akuntansi dan peralatannya dalam suatu perusahaan disebut bidang akuntansi ....
- a. *social accounting*
  - b. *cost accounting*
  - c. *accounting system*
  - d. *auditing*
  - e. *tax accounting*
41. Setiap transaksi akan mengakibatkan perubahan pada harta, kewajiban dan ekuitas perusahaan. Bila perubahan itu mengakibatkan : Bertambahnya harta, bertambahnya kewajiban, maka transaksi yang tepat dengan perubahan tersebut adalah ....
- a. Dibeli peralatan kantor Rp 8.500.000,00 dengan pembayarann tunai 40% selebihnya dibayar kemudian.
  - b. Diterima sewa kendaraan karyawan Rp 10.500.000,00 pembayaran tunai 60% selebihnya 14 hari kemudian

- c. Diterima pendapatan sewa alat pesta Rp 8.500.000,00 yang telah dilakukan 14 hari sebelumnya
  - d. Diterima pendapatan jasa Rp 3.750.000,00 yang baru diterima tunai Rp 1.000.000,00
  - e. Dibeli perlengkapan kantor Rp 5.250.000,00 yang akan dibayar kemudian
42. Purchase office's equipments from CV Makmur Rp 4.500.000,00, paid cash Rp 2.000.000,00 and the rest will be paid monthly.  
The journal of transactions is ....
- a. office equipment (D) Rp4.500.000,00, cash (K) Rp2.000.000,00, and account payable(K) Rp2.500.000,00
  - b. office equipment (D) Rp4.500.000,00, cash (K) Rp2.000.000,00, and account payable (D) Rp2.500.000,00
  - c. office equipment (D) Rp2.000.000,00, cash (K) Rp2.000.000,00, and account payable (K) Rp2.500.000,00
  - d. office equipment (D) Rp4.500.000,00, cash (K) Rp2.500.000,00, and account payable (K) Rp2.000.000,00
  - e. office equipment (D) Rp4.500.000,00, capital (K) Rp4.500.000,00
43. Berikut ini merupakan bukti transaksi yang dibuat oleh Bengkel ” Mandiri”.

Kwitansi

No : 018/kw	
Telah diterima dari : Bapak Jafar Umar	
Jumlah uang	: Lima ratus ribu rupiah
Untuk pembayaran	: Service Kendaraan
<b>Rp.500.000,00</b>	Surabaya, 15 Desember 2008
	Mandiri

Pencatatan bukti transaksi tersebut dalam jurnal umum oleh bengkel Mandiri....

a. Kas	Rp500.000,00	-
Pendapatan jasa	-	Rp500.000,00
b. Piutang	Rp500.000,00	-
Kas	-	Rp500.000,00
c. Kas	R500.000,00	-
Utang usaha	-	Rp500.000,00

d. Kas Rp500.000,00 -  
 Piutang - Rp500.000,00

e. Piutang Rp500.000,00 -  
 Pendapatan jasa - Rp500.000,00

44. Sebagai jurnal umum pada Biro Jasa Langgeng pada bulan Oktober 2008 adalah sebagai berikut:

Tanggal	Keterangan	Ref.	Debit	Kredit
5-10-2008	Kas		12.000	-
	Pendapatan jasa		-	12.000
10-10-2008	Piutang usaha		5.000	-
	Kas		-	5000
17-10-2008	Kas		15.000	-
	Utang bank		-	15.000

Jika diketahui saldo kas pada awal bulan Oktober 2008 sebesar Rp3.000.000,00 maka posting ke buku besar yang benar adalah ....

a. Kas (dalam ribuan rupiah)

Tanggal	Keterangan	Ref.	Debit	Kredit	Saldo	
					Debit	Kredit
01/10/08	Saldo		3.000	-	3.000	-
05/10/08	-		12.000	-	15.000	-
10/10/08	-		-	5.000	10.000	-
17/10/08	-		15.000	-	25.000	-

b. Kas (dalam ribuan rupiah)

Tanggal	Keterangan	Ref.	Debit	Kredit	Saldo	
					Debit	Kredit
01/10/08	Saldo		-	-	3.000	-
05/10/08	-		12.000	-	15.000	-
10/10/08	-		-	5.000	10.000	-
17/10/08	-		15.000	-	25.000	-

c. Kas (dalam ribuan rupiah)

Tanggal	Keterangan	Ref.	Debit	Kredit	Saldo	
					Debit	Kredit
01/10/08	Saldo		-	-	3.000	-
05/10/08	-		12.000	-	9.000	-
10/10/08	-		-	5.000	8.000	-
17/10/08	-		15.000	-	13.500	-

d. Kas (dalam ribuan rupiah)

Tanggal	Keterangan	Ref.	Debit	Kredit	Saldo	
					Debit	Kredit
01/10/08	Saldo		3.000	-	3.000	-
05/10/08	-		12.000	-	15.000	-
10/10/08	-		-	5.000	20.000	-
17/10/08	-		15.000	-	35.000	-

e. Kas (dalam ribuan rupiah)

Tanggal	Keterangan	Ref.	Debit	Kredit	Saldo	
					Debit	Kredit
01/10/08	Saldo		3.000	-	3.000	-
05/10/08	-		12.000	-	15.000	-
10/10/08	-		-	5.000	-	9.000
17/10/08	-		15.000	-	-	24.000

45. Sebagian neraca saldo salon "Yuen" per 31 Desember 2008 sebagai berikut:

No	Nama akun	Debit	Kredit
104	Perlengkapan salon	Rp.4.800.000	-
602	Beban Asuransi	Rp.3.600.000	-

Data penyesuaian per 31 Desember 2008 sebagai berikut.

- Perlengkapan salon masih tersisa Rp. 1.800.000,00
- Asuransi dibayar pada tanggal 3 September 2008 untuk satu tahun

Dari data di atas, jurnal penyesuaian yang benar adalah....

a. Beban asuransi	Rp. 2.400.000,00	-
Asuransi dibayar di muka	-	Rp. 2.400.000,00
b. Beban perlengkapan	Rp. 3.000.000,00	-
Perlengkapan salon	-	Rp. 3.000.000,00
c. Beban asuransi	Rp. 1.200.000,00	-
Asuransi dibayar di muka	-	Rp. 1.200.000,00
d. Perlengkapan	Rp. 3.000.000,00	-
Beban perlengkapan	-	Rp.3.000.000,00
e. Asuransi dibayar di muka	Rp. 1.200.000,00	-
Beban asuransi	-	Rp.1.200.000,00

46. "Roni Kartawijaya" accountant's office has general ledger accounts:

Ending balance	Rp. 15.000.000,00
Service revenue	Rp. 5.000.000,00
Beginning balance	Rp. 10.000.000,00
Income after tax	Rp. 6.000.000,00
Rent expenses	Rp. 1.000.000,00
Interest expenses	Rp. 500.000,00

Based on data the personal withdrawal is .....

- Rp.16.000.000,00
- Rp. 5.000.000,00
- Rp. 4.000.000,00
- Rp. 1.000.000,00
- Rp. 500.000,00

47. Berikut sebagian kertas kerja Salon "Ranti" Per 31 Desember 2007

No	Keterangan	Neraca saldo		AJP		NSD		Laba/Rugi		Neraca	
		D	K	D	K	D	K	D	K	D	K
1	Kas	400				400				400	
2	Piutang	350			150		200			200	
3	Perlengkapan	500			100	400				400	
4	Utang		700				700				700
5	Modal		1000				1000		1000		
6	Pendapatan		2000				2000				2000
7	Beban listrik	600				600		600			

Penyelesaian kertas kerja yang benar pada nomor ....

- 1, 2, 3, dan 6
- 1, 3, 5, dan 7
- 1, 3, 4, dan 7
- 2, 4, 5, dan 6
- 3, 4, 5, dan 7

48. "Express" transportation services company has financial data below:

1) Office supplies	Rp 500.000,00
2) Office supplies expense	Rp. 200.000,00
3) Rent expense	Rp. 1.500.000,00
4) Prepaid Rent	Rp. 750.000,00
5) Service Revenue	Rp.12.000.000,00
6) Fee Revenue	Rp. 3.000.000,00
7) Interest expense	Rp. 250.000,00
8) Personal withdrawal	Rp 600.000,00
9) Wages expense	Rp. 450.000,00
10) Wages payable	Rp. 350.000,00

Based on the data, Express transportation company has income before tax....

- a. Rp 12.600 000
- b. Rp 10.350.000
- c. Rp.9.850.000
- d. Rp.9.600.000
- e. Rp. 9.400.000

49. Berikut adalah data per 31 Desember 2008, perusahaan jasa catering "Bundo":

1) Modal awal	Rp3.500.000,00
2) Pendapatan	Rp12.350.000,00
3) Pengambilan pribadi	Rp1.500.000,00
4) Beban-beban	Rp4.750,000,00

Jumlah modal akhir dari perusahaan jasa catering "Bundo" adalah....

- a. Rp6.100.000,00
- b. Rp9.600.000,00
- c. Rp11.100.000,00
- d. Rp14.350.000,00
- e. Rp16.000.000,00

50. A part of general ledger of "Cemerlang" workshop are below:

1) Equipment	Rp. 250.000,00
2) Account payable	Rp. 350.000,00
3) Notes Payable	Rp . 450.000,00
4) Wages expense	Rp. 800.000,00
5) Interest expense	Rp. 700.000,00
6) Service Revenue	Rp.1.500.000,00

Closing entriest from the accounts is .....

a. Income summary (D)	Rp. 450.000,00	-
service expense (D)	Rp.1.500.000,00	-
interest expense(K)	-	Rp.700.000,00
wage expense ( K )	-	Rp.800.000,00
b. service expense (D)	Rp.1.500.000,00	-
Income summary (K)	-	Rp.1.500.000,00
c. account receivable (D)	Rp.350,000,00	-
Notes payable (D)	Rp.450.000,00	-
Income summary (K)	-	Rp.800.000,00
d. interest expense(D)	Rp.700.000,00	-
wage expense ( D )	Rp.800.000,00	-
Income summary (K)	-	Rp.1.500.000,00
e. equipment (D)	Rp 250.000,00	-
Income summary (K)	-	Rp. 250.000,00